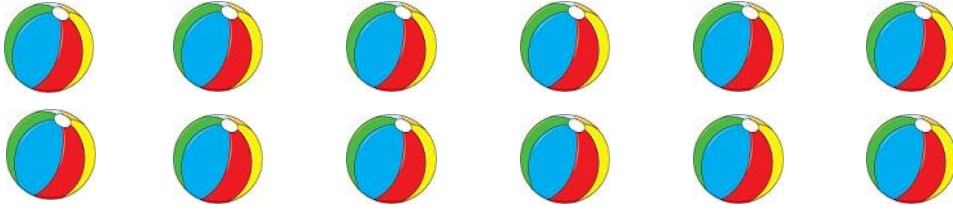


الاسم : \_\_\_\_\_ الصف : \_\_\_\_\_

### الكسور في مجموعات


حوّط في كل مجموعة بحسب الكسر المُسجّل واكمل :

(1) حوّط  $\frac{1}{3}$  الكرات:



كم كُرة حوطت؟ \_\_\_\_\_ الـ  $\frac{1}{3}$  12 يساوي \_\_\_\_\_

(2) حوّط  $\frac{1}{8}$  اقلام الرصاص :



كم قلم رصاص حوطت؟ \_\_\_\_\_ الـ  $\frac{1}{8}$  16 يساوي \_\_\_\_\_

(3) حوّط  $\frac{7}{9}$  التفاحات :




كم تُفاحة حوطت؟ \_\_\_\_\_ الـ  $\frac{7}{9}$  9 يساوي \_\_\_\_\_

(4) حوِّط  $\frac{5}{6}$  الزهور:



كم زهرة حوطت؟ \_\_\_\_\_ الـ  $\frac{5}{6}$  24 يساوي \_\_\_\_\_

(5) حوِّط  $\frac{3}{4}$  الفيلة:



كم فيل حوطت؟ \_\_\_\_\_ الـ  $\frac{3}{4}$  20 يساوي \_\_\_\_\_